

Collège OQBA IBN NAFAA
Sfax - Skhira

**DEVOIR DE CONTROLE N°1
Informatique (Théorique)**

Enseignant: Mr. BEN AYED Abdelkarim

Classe : 7^{ème} Base 2





Date : Le Samedi 18/10/2008 à 10^h00
Durée : 1 h

Nom & Prénom :

Note : /20

Exercice 1 :(4 pts)

Mettre les noms des éléments sous leurs images:

			
.....

Exercice 2 :(6 pts)

Mettre une croix (X) dans la case correspondante (vous ne pouvez mettre qu'une seule croix) :

	Périphérique d'entrée	Périphérique de sortie	Support de stockage
Clavier			
Imprimante			
CD			
Ecran			
Souris			
Disque dur			

Exercice 3 : (5 pts)

Relier par une flèche chaque composant à sa définition :

La Souris	Permet de saisir des informations.
L'imprimante	Support de stockage magnétique.
La disquette	Permet d'afficher les informations.
Le Clavier	Permet de copier les textes et les images vers les papiers.
L'écran	Un dispositif de pointage.

Exercice 4 :(5 pts)

Ajouter (Vrai) ou (faux) devant chaque phrase :

- L'ordinateur est un écran.
- Le clavier c'est le composant principal de l'ordinateur
- L'unité centrale est le cerveau de l'ordinateur
- On utilise la souris pour écrire du texte
- il faut avoir des programmes sur l'ordinateur pour traiter les informations